

03-CAMPO, ENERGÍA Y POTENCIAL ELÉCTRICO



Múltiple opción

- 1) Un objeto grande con carga negativa se coloca sobre una mesa aislada. Una bola metálica neutra rueda directamente hacia el objeto, pero se detiene antes de tocarlo. Una segunda bola metálica neutra rueda por la trayectoria de la primera, la golpea y se detiene. La primera bola rueda hacia adelante, pero no toca el objeto negativo. En ningún momento ninguna de las bolas toca el objeto negativo. ¿Cuál es la carga final de cada bola?
- A) La primera bola es positiva y la segunda es negativa.
 - B) La primera bola es negativa y la segunda es positiva.
 - C) Ambas bolas permanecen neutras.
 - D) Ambas bolas son positivas.

2) Se coloca una carga puntual de $+Q$ en el centro de un cuadrado. Al colocar una segunda carga puntual de $-Q$ en una de las esquinas del cuadrado, se observa que una fuerza electrostática de $2,0\text{ N}$ actúa sobre la carga positiva en el centro del cuadrado. Ahora, se colocan cargas idénticas de $-Q$ en las otras tres esquinas del cuadrado. ¿Cuál es la magnitud de la fuerza electrostática neta que actúa sobre la carga positiva en el centro del cuadrado?

- A) cero B) $2,8\text{ N}$ C) $4,0\text{ N}$ D) $8,0\text{ N}$

Múltiple opción

3) ¿Es posible tener un valor de campo eléctrico cero entre una carga negativa y una positiva a lo largo de la línea que une ambas cargas?

- A) Sí, si las dos cargas tienen la misma magnitud.
- B) Sí, independientemente de la magnitud de las dos cargas.
- C) No, no puede existir un campo eléctrico cero entre las dos cargas.
- D) No se puede determinar sin conocer la separación entre las dos cargas.

4) Dos partículas puntuales, con cargas q_1 y q_2 , se encuentran a una distancia r . El campo eléctrico es cero en el punto P entre las partículas, en el segmento que las une. Concluimos que:

- A) q_1 y q_2 deben tener la misma magnitud y signo.
- B) P debe estar a medio camino entre las partículas.
- C) q_1 y q_2 deben tener el mismo signo, pero pueden tener magnitudes diferentes.
- D) q_1 y q_2 deben tener magnitudes iguales y signos opuestos.
- E) q_1 y q_2 deben tener signos opuestos y pueden tener magnitudes diferentes.



ELECTORRECEPCIÓN

Habilidad biológica para recibir y hacer uso de impulsos eléctricos.

Más común en criaturas acuáticas, pues el agua es mejor conductor que el aire.

Se usa principalmente para **electrolocalización**: uso de campos eléctrico para localizar objetos y ubicarse en el espacio.

Muchos peces tienen este sentido asociado al sistema de la **línea lateral** (órgano sensorial).

El animal percibe los campos eléctricos generados por otros animales.

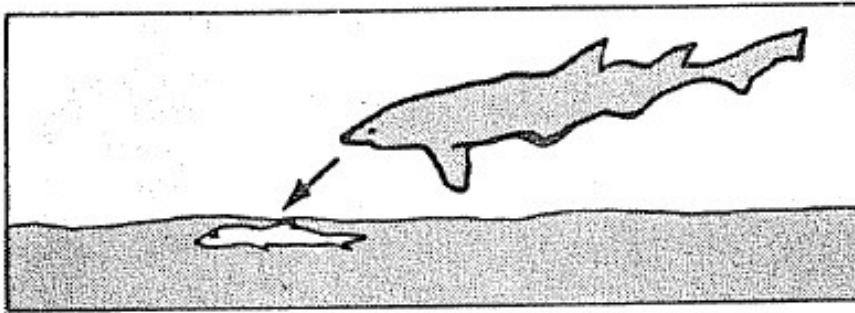
Los tiburones son los animales conocidos más sensibles eléctricamente, respondiendo a campos tan bajos como 5×10^{-7} N/C.

Los sensores de los tiburones a los campos eléctricos son llamados **ampollas de Lorenzini**.

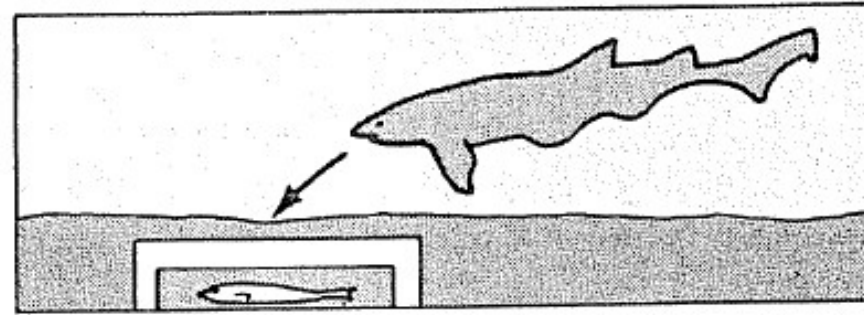
Consisten en **células electrorreceptoras** conectadas al agua marina a través de poros en sus hocicos y otras zonas de la cabeza.

Frecuente en peces como tiburones, rayas, lampreas y bagres, pero además en ciertos mamíferos (monotremas): como equidnas y ornitorrincos.

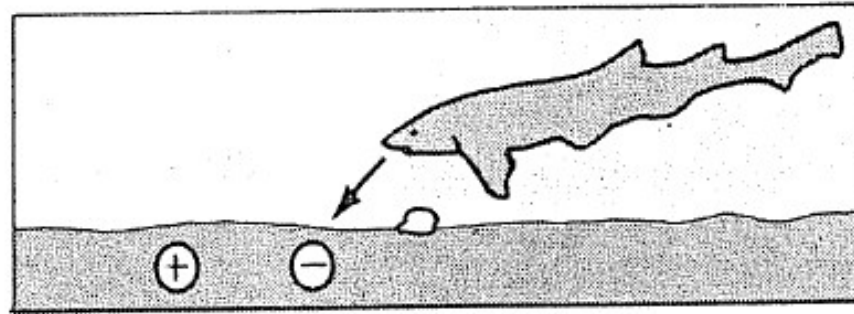
ELECTRORRECEPCIÓN



(a)



(b)



(c)

$$E = 0,5 \mu\text{N/C.}$$

Los tiburones son sensibles a pequeñísimos campos eléctricos producidos por cargas en un cuerpo.

a) El tiburón ataca a un pez oculto bajo la arena.

b) Una cámara bloquea todo menos los estímulos eléctricos y el tiburón no obstante ataca.

c) Un campo eléctrico producido artificialmente consigue la misma respuesta. El tiburón aparece ignorando un trozo de alimento bien patente por seguir el estímulo eléctrico.

ELECTRORRECEPCIÓN DEL TIBURÓN



Los tiburones tienen la habilidad de localizar a sus presas aunque estén totalmente escondidas en la arena del fondo del océano. Hacen esto detectando los débiles campos eléctricos producidos por las contracciones musculares de sus presas.

La sensibilidad de los escualos a los campos eléctricos (“el sexto sentido”) proviene de los canales gelatinosos que tienen en sus cuerpos.

Estos canales terminan en los poros de la piel del tiburón (mostrado en esta fotografía). Un campo eléctrico tan débil como 5×10^{-7} N/C genera una carga que fluye dentro de los canales y dispara una señal en el sistema nervioso del tiburón. Como el tiburón tiene canales con orientaciones diferentes, puede medir las distintas componentes del vector del campo eléctrico y determinar así la dirección del campo.

ELECTORRECEPCIÓN

En el curso de Laboratorio de Física 2 hacen un modelo:

b) «Pez eléctrico»

Ciertos peces poseen la capacidad de detectar campos eléctricos, denominada electropercepción. La electropercepción es útil para obtener información del entorno y en particular para percibir la presencia de otros seres vivos. Estos peces poseen un órgano para generar el campo eléctrico y otros para detectarlo. En la figura se muestran las líneas de campo en un ejemplo (ver ref. [2]).

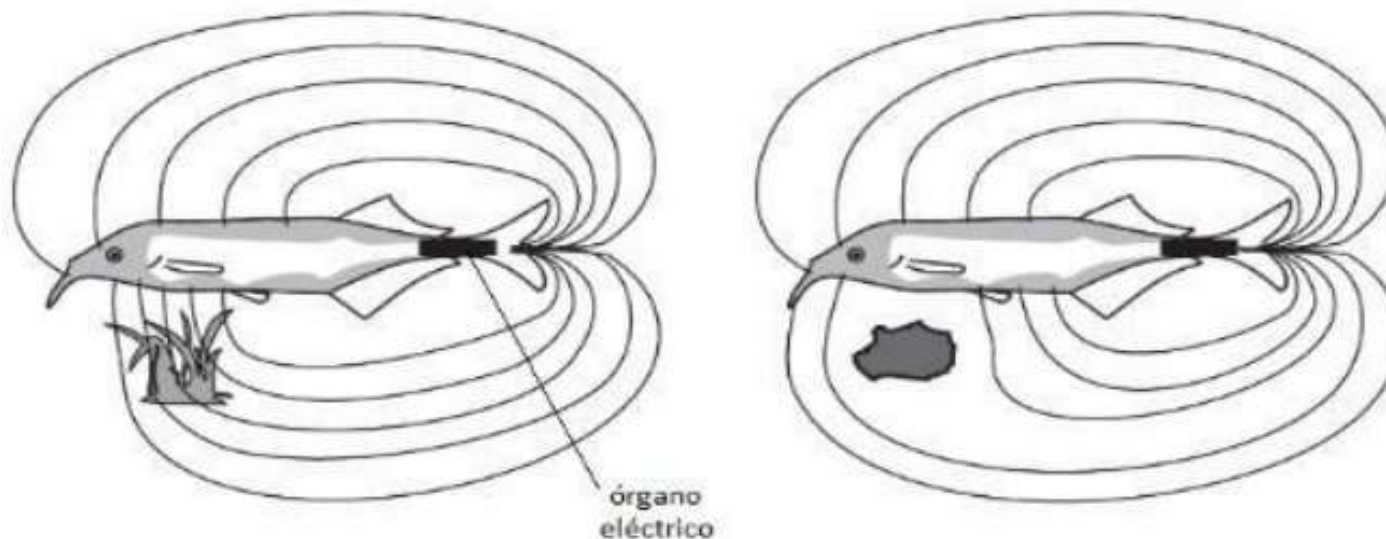


Figura 5: Electropercepción en peces eléctricos. El cambio en las líneas del campo eléctrico que ellos mismos generan, debido a objetos cercanos, les permite obtener información de su entorno.

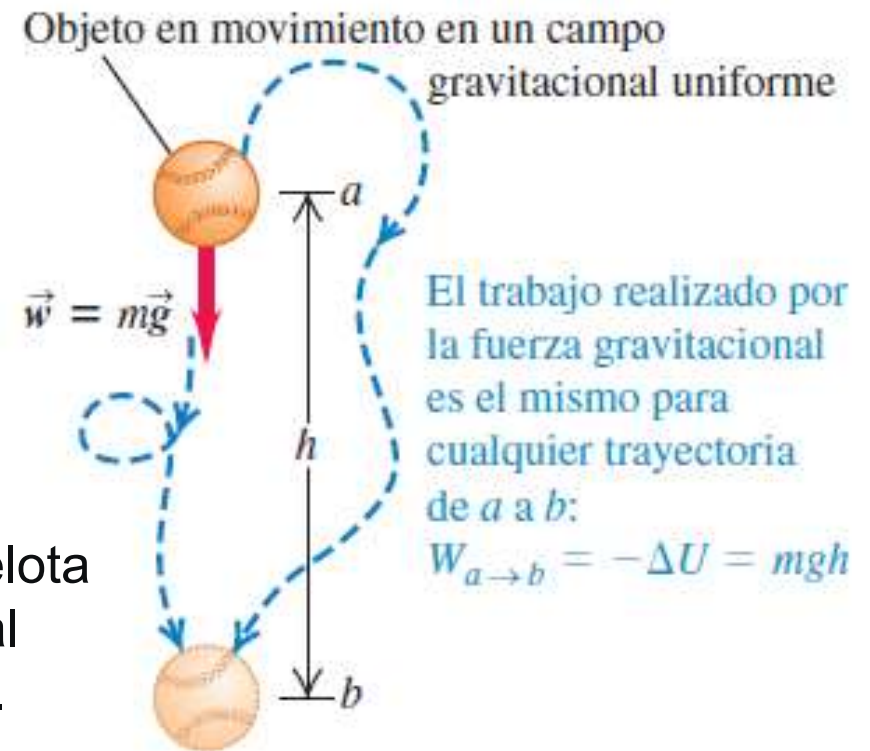
ENERGÍA POTENCIAL ELÉCTRICA

Sabemos que podemos asociar una energía potencial a fuerzas conservativas. En general si **F** es una fuerza conservativa, el trabajo realizado por **F** se puede expresar en términos de una **energía potencial U**, y se cumple:

$$W_{A \rightarrow B} = U_A - U_B = -(U_B - U_A) = -\Delta U$$

Trabajo en un campo gravitatorio uniforme: una pelota se traslada desde el punto **a**, con energía potencial gravitatoria $U_{ga} = mgh_a$, al punto **b**, con $U_{gb} = mgh_b$.

El trabajo que realiza el peso vale: $W_{a \rightarrow b} = mgh = mg(h_a - h_b) = U_{ga} - U_{gb} = -\Delta U_g$



La fuerza eléctrica (coulombiana) es una **fuerza conservativa**, por tanto se le puede asociar una **energía potencial eléctrica**, y el trabajo realizado no depende de la trayectoria, sino que solamente del punto inicial y final.

Cuando una partícula con carga se mueve en un campo eléctrico, este último ejerce una fuerza que efectúa un *trabajo sobre la partícula*.

Este trabajo siempre se puede expresar en términos de la energía potencial eléctrica.

ENERGÍA POTENCIAL ELÉCTRICA EN CAMPO UNIFORME

Par de placas metálicas paralelas con carga generan un campo eléctrico uniforme descendente de magnitud E .

Trabajo realizado por el campo eléctrico:

$$W_{A \rightarrow B} = F \cdot d = q_0 E d$$

Componente y de la fuerza eléctrica, $F_y = -q_0 E$, es constante, no hay componente x o z , análogo a la fuerza peso.

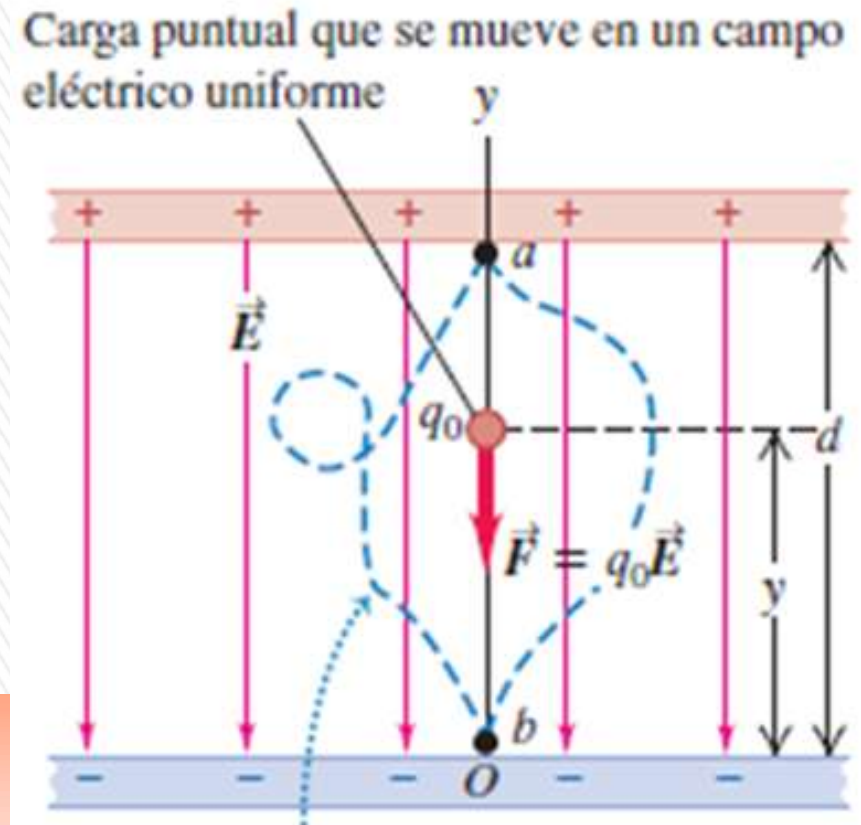
El trabajo $W_{a \rightarrow b}$ realizado por el campo eléctrico a través de cualquier trayectoria entre a y b es el mismo.

Este trabajo puede representarse con una **función de energía potencial U** .

La energía potencial para la fuerza eléctrica $F_y = -q_0 E$ es: **$U = q_0 E y$**

Cuando la carga de prueba se mueve de la altura y_a a la altura y_b , el trabajo realizado sobre la carga por el campo está dado por

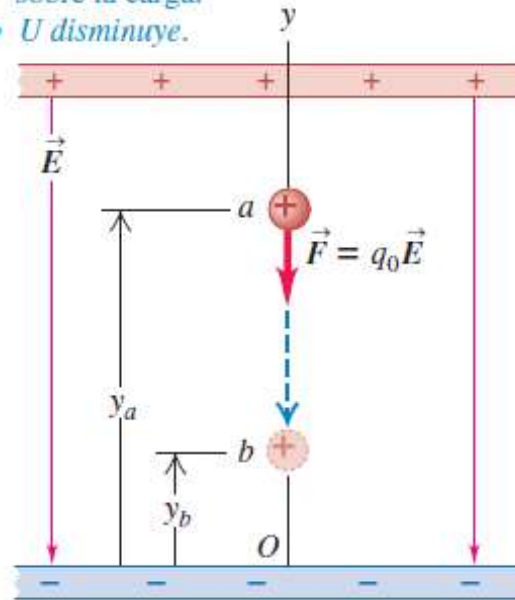
$$W_{a \rightarrow b} = -\Delta U = -(U_b - U_a) = -(q_0 E y_b - q_0 E y_a) = q_0 E (y_a - y_b)$$



ENERGÍA POTENCIAL ELÉCTRICA EN CAMPO UNIFORME

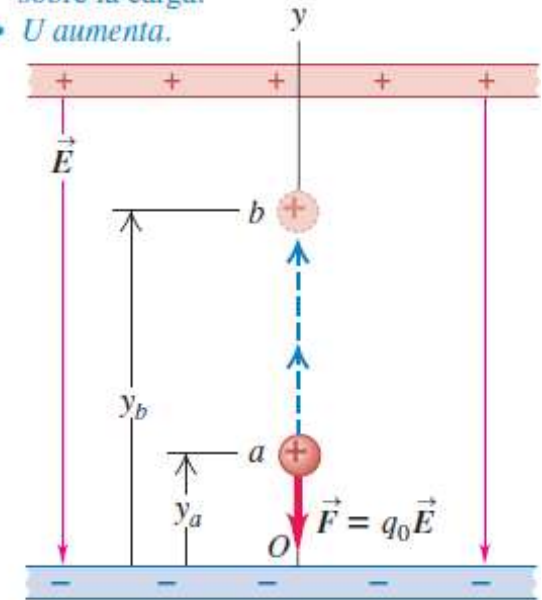
a) La carga positiva se desplaza en dirección de \vec{E} :

- El campo realiza un trabajo *positivo* sobre la carga.
- U disminuye.



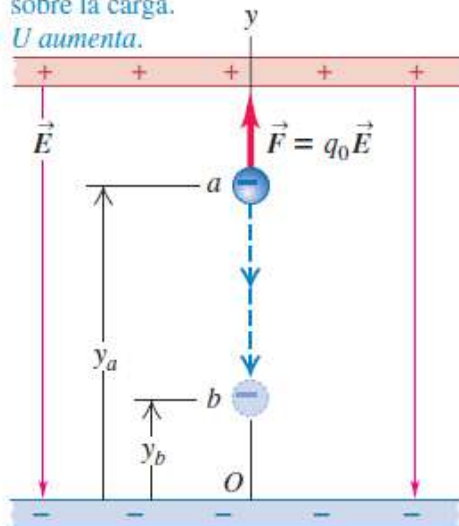
b) La carga positiva se desplaza en dirección opuesta de \vec{E} :

- El campo realiza un trabajo *negativo* sobre la carga.
- U aumenta.



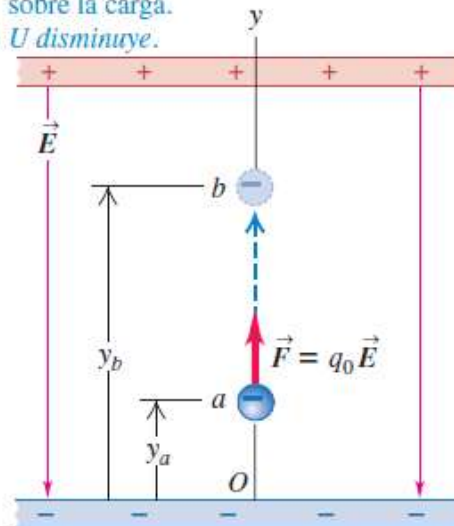
a) La carga negativa se desplaza en la dirección de \vec{E} :

- El campo realiza trabajo *negativo* sobre la carga.
- U aumenta.



b) La carga negativa se desplaza en dirección opuesta de \vec{E} :

- El campo realiza trabajo *positivo* sobre la carga.
- U disminuye.



Sea q_0 positiva o negativa, se aplica la siguiente regla general:

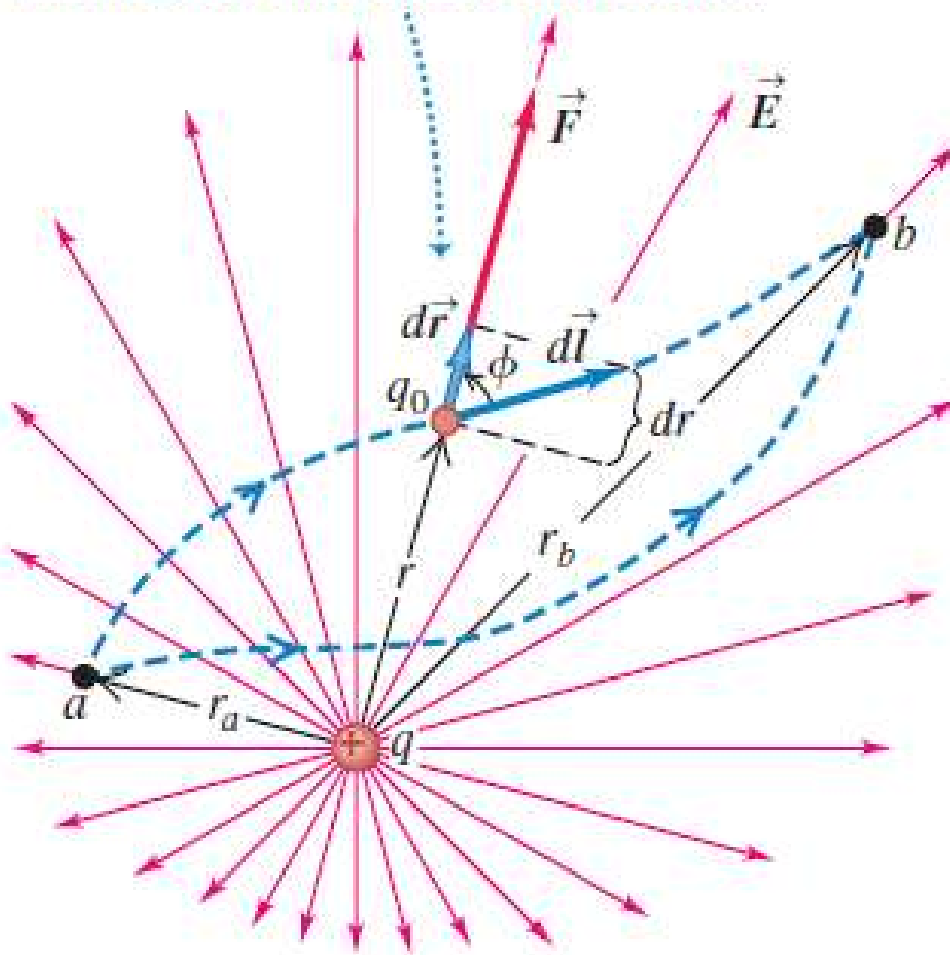
U aumenta si la carga de prueba q_0 se mueve en el sentido opuesto a la fuerza eléctrica $F=q_0E$; es decir si el campo eléctrico realiza un trabajo negativo.

U disminuye si q_0 se mueve en el mismo sentido que $F = q_0E$.

ENERGÍA POTENCIAL ELÉCTRICA DE DOS CARGAS PUNTUALES

Trabajo realizado sobre una carga q_0 que se mueve en el campo eléctrico creado por otra carga puntual estacionaria q .

La carga de prueba q_0 se desplaza de a a b a lo largo de una trayectoria arbitraria.



$$\begin{aligned}W_{a \rightarrow b} &= \int_a^b \vec{F} \cdot d\vec{l} = \int_a^b F \cos \Phi \, dl \\W_{a \rightarrow b} &= \int_{r_a}^{r_b} F \, dr = \int_{r_a}^{r_b} k_E \frac{q_0 q}{r^2} \, dr \\W_{a \rightarrow b} &= k_E q_0 q \left(-\frac{1}{r} \right) \Big|_{r_a}^{r_b} \\W_{a \rightarrow b} &= k_E q_0 q \left(\frac{1}{r_a} - \frac{1}{r_b} \right) = \frac{q_0 q}{4\pi\epsilon_0} \left(\frac{1}{r_a} - \frac{1}{r_b} \right)\end{aligned}$$

$$W_{a \rightarrow b} = \frac{q q_0}{4\pi\epsilon_0} \left(\frac{1}{r_a} - \frac{1}{r_b} \right)$$

El trabajo efectuado por la fuerza eléctrica, para un desplazamiento cualquiera, depende solo de los puntos en los extremos.

Esto es una consecuencia de que la fuerza es **conservativa**

ENERGÍA POTENCIAL ELÉCTRICA DE DOS CARGAS PUNTUALES

Como: $W_{A \rightarrow B} = U_A - U_B = -(U_B - U_A) = -\Delta U$

Podemos definir que la energía potencial cuando q_0 está a una distancia r_a de q vale:

$$U_a = \frac{qq_0}{4\pi\epsilon_0 r_a}$$

análogamente

$$U_b = \frac{qq_0}{4\pi\epsilon_0 r_b}$$

La energía potencial U cuando la carga de prueba q_0 está a cualquier distancia r de la carga q es

$$U = \frac{qq_0}{4\pi\epsilon_0 r}$$

energía potencial
eléctrica de dos cargas
puntuales q y q_0

Válido independientemente de los signos de q y q_0 .

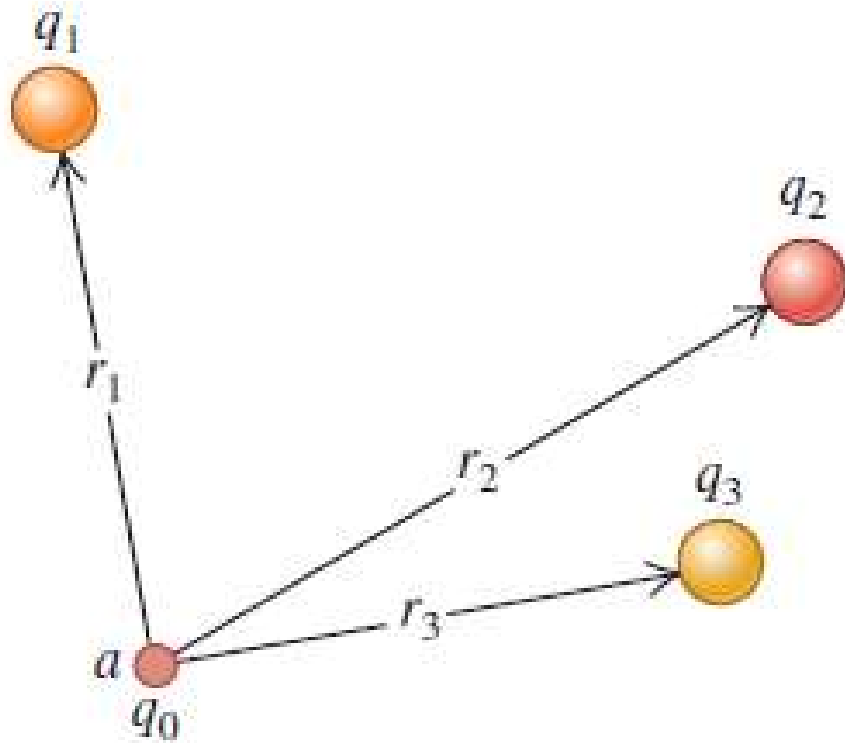
La energía potencial es positiva si las cargas q y q_0 tienen el mismo signo, y negativa si tienen signos opuestos

La energía potencial siempre se define en relación con algún punto de referencia donde $U = 0$.

$U = 0$ si q y q_0 están infinitamente alejadas y $r = \infty$

Por lo tanto, U representa el trabajo que realizaría el campo de q sobre la carga de prueba q_0 si esta última se desplazara de una distancia inicial r al infinito.

ENERGÍA POTENCIAL ELÉCTRICA DE VARIAS CARGAS PUNTUALES



Carga q_0 que se desplaza en una región donde hay un campo \mathbf{E} creado por varias cargas.

La energía potencial asociada con la carga q_0 en el punto *a* debido a una distribución de cargas q_1, q_2, q_3, \dots vale:

$$U = \frac{q_0}{4\pi\epsilon_0} \left(\frac{q_1}{r_1} + \frac{q_2}{r_2} + \frac{q_3}{r_3} + \dots \right) = \frac{q_0}{4\pi\epsilon_0} \sum_i \frac{q_i}{r_i}$$

U es igual a cero cuando todas las distancias r_1, r_2, \dots son infinitas, es decir, cuando la carga de prueba q_0 está muy lejos de todas las cargas que producen el campo.

ENERGÍA POTENCIAL ELÉCTRICA DE UN ARREGLO DE CARGAS

También hay energía potencial implicada en el arreglo de las cargas.

Si se comienza con las cargas q_1, q_2, q_3, \dots , todas separadas entre sí por distancias infinitas, y luego se acercan de manera que la distancia entre q_i y q_j sea r_{ij} , la energía potencial total U es la suma de las energías potenciales de interacción de cada par de cargas.

La suma se extiende sobre todos los *pares de cargas*; no se permite que $i = j$ (porque eso sería la interacción de una carga consigo misma), y solo se incluyen términos con $i < j$ para garantizar que cada par de cargas se tome en cuenta solo una vez.

$$U = \frac{1}{4\pi\epsilon_0} \sum_{i < j} \frac{q_i q_j}{r_{ij}}$$

Se toma en cuenta la interacción entre q_3 y q_4 , se incluye un término con $i = 3$ y $j = 4$, pero no un término con $i = 4$ y $j = 3$.

Por ejemplo para 4 cargas q_1, q_2, q_3 y q_4 , sería:

$$U = \frac{1}{4\pi\epsilon_0} \left(\frac{q_1 q_2}{r_{12}} + \frac{q_1 q_3}{r_{13}} + \frac{q_1 q_4}{r_{14}} + \frac{q_2 q_3}{r_{23}} + \frac{q_2 q_4}{r_{24}} + \frac{q_3 q_4}{r_{34}} \right)$$



PREGUNTA RÁPIDA N° 1



Un protón se mueve desde el punto A hasta el punto B, en el mismo sentido y dirección que un campo eléctrico externo uniforme E .
En este movimiento:

- A) El trabajo realizado por el campo eléctrico es positivo y la energía potencial del sistema campo eléctrico-protón aumenta.
- B) El trabajo realizado por el campo eléctrico es negativo y la energía potencial del sistema campo eléctrico-protón aumenta.
- C) El trabajo realizado por el campo eléctrico es positivo y la energía potencial del sistema campo eléctrico-protón disminuye.
- D) El trabajo realizado por el campo eléctrico es negativo y la energía potencial del sistema campo eléctrico-protón disminuye.
- E) El trabajo realizado por el campo eléctrico es positivo y la energía potencial del sistema campo eléctrico-protón no cambia.
- F) El trabajo realizado por el campo eléctrico es negativo y la energía potencial del sistema campo eléctrico-protón no cambia.



PREGUNTA RÁPIDA N° 2

Una partícula con una carga $Q = 5,0 \times 10^{-8} \text{ C}$ está fija en el origen. Otra partícula con carga $q = -1,0 \times 10^{-8} \text{ C}$ se mueve desde el punto $x = 5,0 \text{ cm}$, en el eje x , al punto $y = 5,0 \text{ cm}$ en el eje y .

El cambio en la energía potencial eléctrica del sistema vale:

A) $1,8 \times 10^{-4} \text{ J}$

B) $-1,8 \times 10^{-4} \text{ J}$

C) $9,0 \times 10^{-5} \text{ J}$

D) $-9,0 \times 10^{-5} \text{ J}$

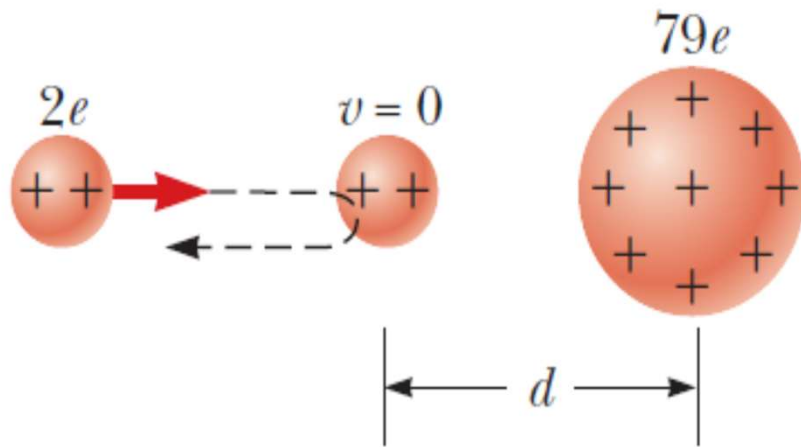
E) 0

F) $-3,3 \times 10^{-6} \text{ J}$

G) Ninguno de los indicados



EJEMPLO-Ejercicio 1.2.10



En el famoso experimento de dispersión de Rutherford, que condujo al modelo planetario del átomo, se dispararon partículas alfa (con cargas de $2e$ y masas de $6,64 \times 10^{-27} \text{ kg}$) hacia un núcleo de oro con carga $+79e$. Una partícula alfa, inicialmente muy lejos del núcleo de oro, se disparó a $2,00 \times 10^7 \text{ m/s}$ como en la figura. ¿Cuánto se acerca la partícula alfa al núcleo de oro antes de dar la vuelta? Suponga que el núcleo de oro permanece estacionario.

Voy a considerar que la energía del sistema se conserva.

La partícula alfa convertirá su energía cinética en energía potencial eléctrica, lo que determinará el máximo acercamiento al núcleo de oro. Se supone que la energía potencial eléctrica inicial es nula (está muy alejado) y llega con energía cinética nula (máximo acercamiento).

$$K_{\text{inicial}} + U_{\text{inicial}} = K_{\text{final}} + U_{\text{final}}$$
$$K_{\text{inicial}} = U_{\text{final}}$$



EJEMPLO-Ejercicio 1.2.10

En el famoso experimento de dispersión de Rutherford, que condujo al modelo planetario del átomo, se dispararon partículas alfa (con cargas de $2e$ y masas de $6,64 \times 10^{-27} \text{ kg}$) hacia un núcleo de oro con carga $+79e$. Una partícula alfa, inicialmente muy lejos del núcleo de oro, se disparó a $2,00 \times 10^7 \text{ m/s}$ como en la figura. ¿Cuánto se acerca la partícula alfa al núcleo de oro antes de dar la vuelta? Suponga que el núcleo de oro permanece estacionario..

$$\frac{q_1 q_2}{4\pi\epsilon_0 r} = \frac{1}{2} m v^2 \quad r = \frac{q_1 q_2}{2\pi\epsilon_0 m v^2} = \frac{(2e)(79e)}{2\pi\epsilon_0 m v^2} = \frac{79e^2}{\pi\epsilon_0 m v^2}$$

$$r = \frac{79e^2}{\pi\epsilon_0 m v^2} = \frac{79(1,602 \times 10^{-19})^2}{\pi(8,854 \times 10^{-12})(6,64 \times 10^{-27})(2,00 \times 10^7)^2} =$$

$$r = \frac{79e^2}{\pi\epsilon_0 m v^2} = 2,74 \times 10^{-14} \text{ m}$$



POTENCIAL ELÉCTRICO

El **potencial eléctrico** V se define, en cualquier punto del campo eléctrico, como **la energía potencial electrostática U por unidad de carga asociada con una carga de prueba q_0 en ese punto:**

$$V = \frac{U}{q_0}$$

Unidad del potencial eléctrico en S.I.: **volt (V)** $1V = 1J/C$

en honor del científico italiano y experimentador eléctrico Alejandro Volta (1745-1827), y es igual a 1 joule por coulomb:

El trabajo realizado por unidad de carga por la fuerza eléctrica cuando un cuerpo con carga se desplaza de **a a b** es *igual al potencial en a (V_a) menos el potencial en b (V_b)*.

$$\frac{W_{a \rightarrow b}}{q_0} = -\frac{\Delta U}{q_0} = -\left(\frac{U_b}{q_0} - \frac{U_a}{q_0}\right) = -(V_b - V_a) = V_a - V_b$$

La diferencia $V_a - V_b$ se llama *potencial de a con respecto a b* ; se abrevia como $V_{ab} = V_a - V_b$

Con frecuencia, se denomina **diferencia de potencial entre a y b** o **voltaje V_{ab} , potencial de a con respecto a b , es igual al trabajo realizado por la fuerza eléctrica cuando una unidad de carga se desplaza de a a b .**

El instrumento que mide la diferencia de potencial entre dos puntos se llama *voltímetro*.

POTENCIAL ELÉCTRICO

Potencial eléctrico de una carga puntual:

$$V = \frac{U}{q_0} = \frac{1}{4\pi\epsilon_0} \frac{q}{r}$$

r es la distancia de la carga puntual q al punto en que se evalúa el potencial.

Si q es positiva, el potencial que produce es positivo en todos los puntos; si q es negativa, produce un potencial negativo en todo lugar.

V es igual a cero en $r = \infty$, una distancia infinita de la carga puntual.

Potencial debido a un conjunto de cargas puntuales

$$V = \frac{U}{q_0} = \frac{1}{4\pi\epsilon_0} \sum_i \frac{q_i}{r_i}$$

Si tenemos una distribución continua de carga a lo largo de una línea, sobre una superficie o a través de un volumen, se divide la carga en elementos dq , y la suma en la ecuación anterior se convierte en una integral:

$$V = \frac{1}{4\pi\epsilon_0} \int \frac{dq}{r}$$

r es la distancia que hay entre el elemento con carga dq y el punto del campo donde se desea calcular V.

El potencial en estas ecuaciones es igual a cero en puntos que están infinitamente lejos de todas las cargas.