


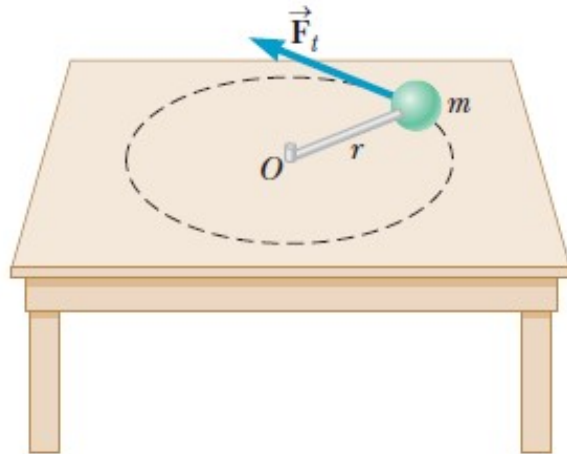
14- Gravitación y movimiento de satélites



El **Sputnik 1** (en ruso Спутник-1, que significa *satélite*) lanzado el 4/10/1957 por la Unión Soviética fue el primer satélite artificial de la historia.¹ Tenía una masa de lanzamiento de 83,6 kg y un periodo de 96,2 minutos.

REPASO DE CLASE PASADA

Relación entre el torque y la aceleración angular en un rígido que gira alrededor de un eje fijo



$$m \cdot a_t = F_t$$

$$m \cdot a_t \cdot r = F_t \cdot r$$

$$m \cdot \alpha \cdot r^2 = F_t \cdot r$$

$$m \cdot r^2 \alpha = \tau$$

mr^2 se conoce como el **momento de inercia (I)** del objeto de masa m con respecto al punto O .

$$I \cdot \alpha = \tau$$

El torque (τ) sobre el objeto es proporcional a la aceleración angular (α) de éste, siendo la constante de proporcionalidad el **momento de inercia (I)**

Se puede generalizar:

La **aceleración angular** de un objeto rígido es proporcional al **torque neto** que actúa sobre él, siendo la constante de proporcionalidad el **momento de inercia**.

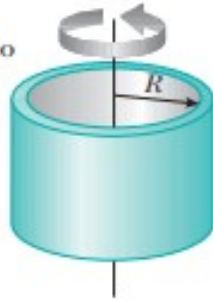
Tanto el torque neto (o sumatoria de torques) como el momento de inercia se calculan respecto al eje de rotación..

$$\sum \tau = I \alpha$$

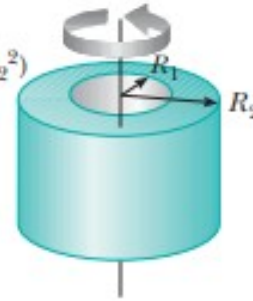
REPASO DE CLASE PASADA

Momentos de inercia de objetos rígidos homogéneos con diferentes geometrías

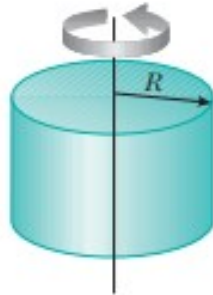
Aro o cascarón
cilíndrico delgado
 $I_{CM} = MR^2$



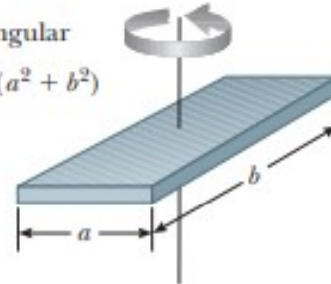
Cilindro hueco
 $I_{CM} = \frac{1}{2}M(R_1^2 + R_2^2)$



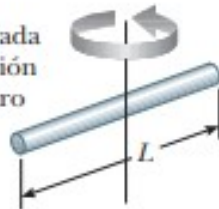
Cilindro sólido
o disco
 $I_{CM} = \frac{1}{2}MR^2$



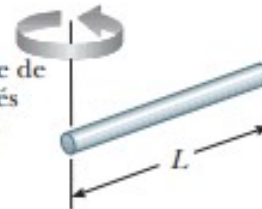
Placa rectangular
 $I_{CM} = \frac{1}{12}M(a^2 + b^2)$



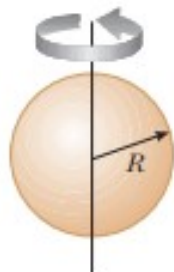
Barra larga delgada
con eje de rotación
a través del centro
 $I_{CM} = \frac{1}{12}ML^2$



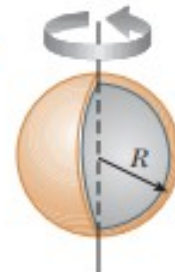
Barra larga
delgada con eje de
rotación a través
de un extremo
 $I = \frac{1}{3}ML^2$



Esfera sólida
 $I_{CM} = \frac{2}{5}MR^2$



Cascarón esférico
delgado
 $I_{CM} = \frac{2}{3}MR^2$



El momento de inercia de un sistema de partículas respecto a un cierto eje es igual a la suma de los momentos de inercia de c/u de las partículas respecto al mismo eje.

$$I = \sum_i m_i \cdot r_i^2 = m_1 r_1^2 + m_2 r_2^2 + m_3 r_3^2 + \dots$$

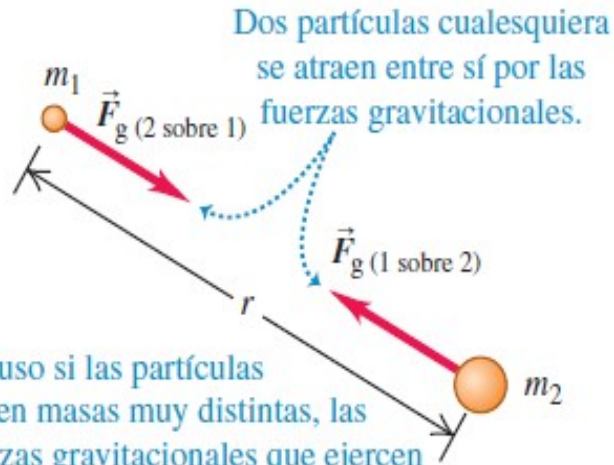
El momento de inercia de un sistema depende de cómo la masa se distribuye y de la ubicación del eje respecto al cual se calcula I .

Los momentos de inercia para algunos cuerpos con simetría y homogéneos se muestran en la figura.

Se puede utilizar esta tabla cuando necesite determinar el momento de inercia de un cuerpo que tiene las formas mencionadas

REPASO DE CLASE PASADA

La ley de Newton de la gravitación



Incluso si las partículas tienen masas muy distintas, las fuerzas gravitacionales que ejercen entre sí son de la misma intensidad:

$$F_g(1 \text{ sobre } 2) = F_g(2 \text{ sobre } 1)$$

$$F_g = \frac{Gm_1m_2}{r^2}$$

Valor aceptado de $G = 6,674 \times 10^{-11} \text{ N.m}^2/\text{kg}^2$

Fuerzas gravitacionales actúan a lo largo de la línea que une las dos partículas (**fuerzas centrales**), y forman un **par acción-reacción**.

$$\text{Peso: } W = F_g = G \frac{M_T}{R_T^2} m = mg$$

$$g(h) = G \frac{M_T}{(R_T + h)^2}$$

Valor normalizado:

9,80665 m/s²

Polo: 9,832 m/s² -

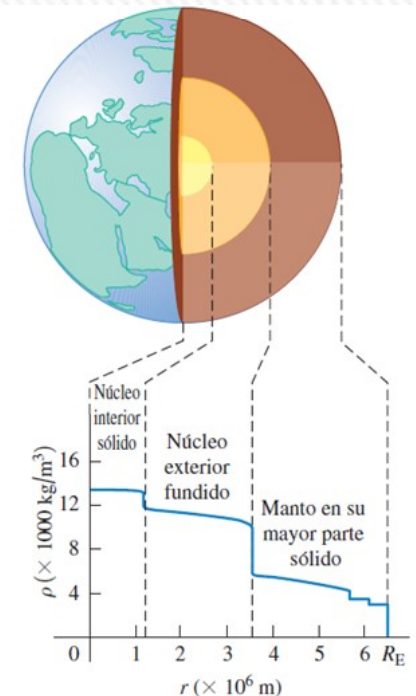
Ecuador: 9,78 m/s² -

Montevideo: 9,7974 m/s²

Si h = 10 km, error 0,3 %

La Tierra es una distribución de masa con simetría esférica aproximada, *no es uniforme volumétricamente*.

El interior es mucho más denso que la superficie para que la densidad *media* sea de 5500 kg/m³.



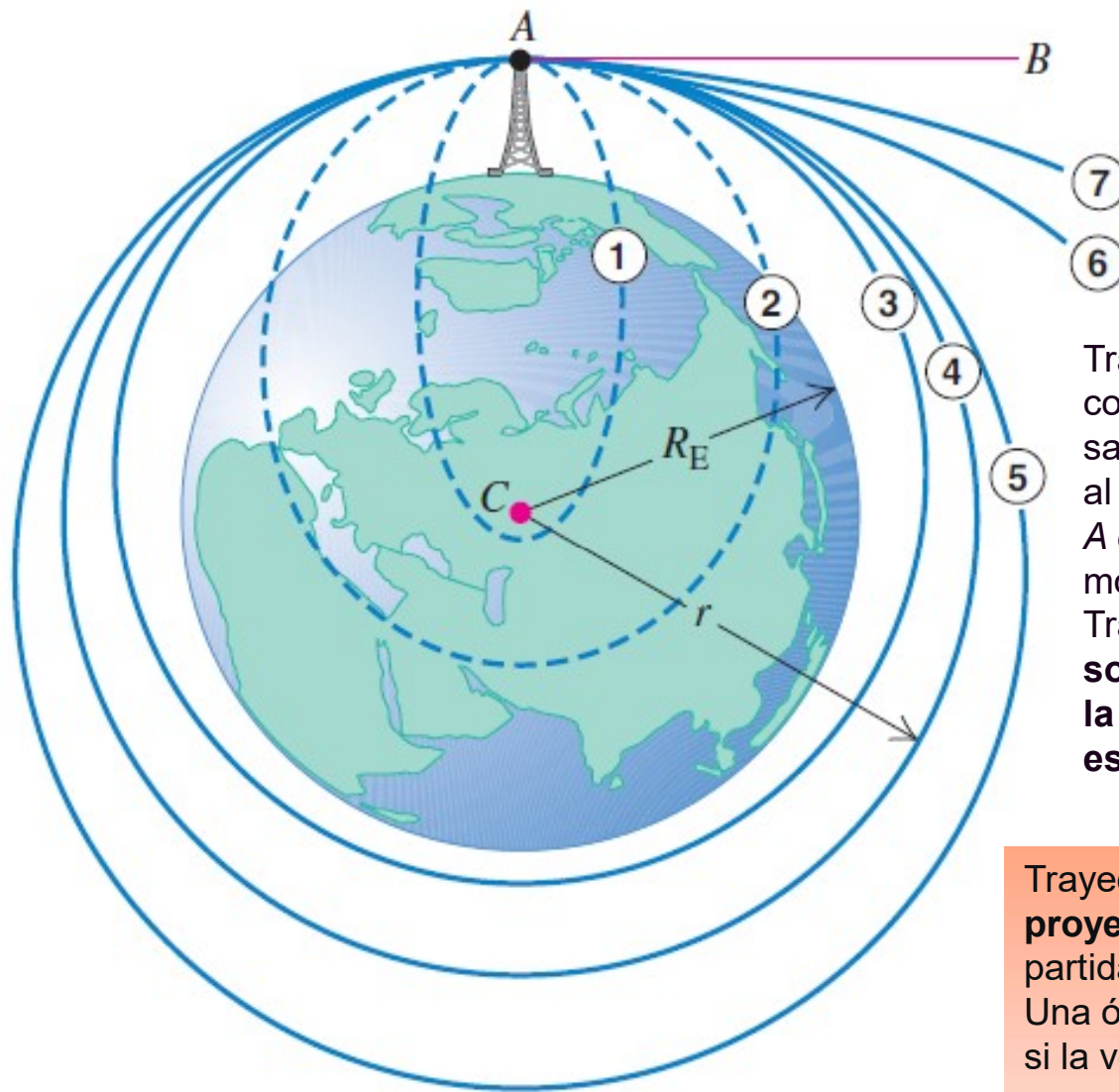
PREGUNTA RÁPIDA

Saturno tiene aprox. 100 veces la masa de la Tierra y está alejado del Sol casi 10 veces más que nuestro planeta. En comparación con la aceleración de la Tierra causada por la atracción gravitacional solar, ¿qué tan grande es la **aceleración de Saturno debida a la gravitación solar**, es decir la aceleración centrípeta respecto al Sol?

- i. **100 veces mayor;**
- ii. **10 veces mayor;**
- iii. **es igual;**
- iv. **1/10 ;**
- v. **1/100**

Respuesta: v. 1/100. Si bien las fuerzas que experimentan ambos planetas son iguales, la aceleración es igual a dicha fuerza sobre la masa del planeta.

Movimiento de satélites

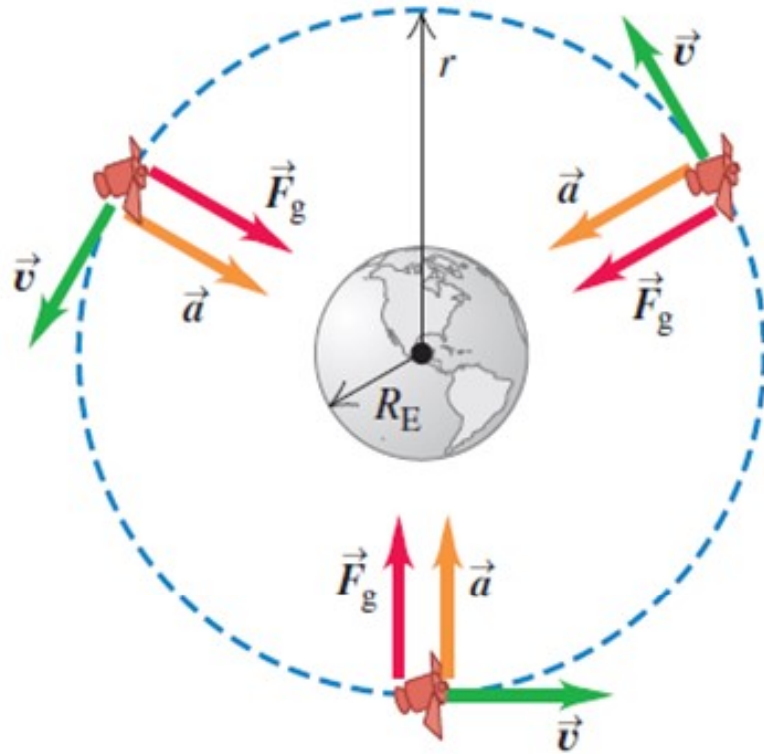


Un proyectil se lanza de A a B. Trayectorias ① a ⑦ muestran el efecto de la rapidez inicial creciente.

Trayectorias 3 a 5, el proyectil no choca contra la Tierra y se convierte en su satélite. Si no hay una fuerza que frene al proyectil, su rapidez al volver al punto A es la que tenía inicialmente, y el movimiento se repite indefinidamente. Trayectorias 1 a 5 **órbitas cerradas**: son elipses o segmentos de elipses; la trayectoria 4 es un círculo, un caso especial de la elipse.

Trayectorias 6 y 7 **órbitas abiertas**; el **proyectil nunca vuelve** a su punto de partida y se aleja cada vez más de la Tierra. Una órbita abierta tiene forma de hipérbola si la velocidad es mayor que la velocidad de escape, o de parábola si la velocidad es exactamente igual a la velocidad de escape

Satélites: órbitas circulares



El satélite está en órbita circular: su aceleración \vec{a} es siempre perpendicular a su velocidad \vec{v} , por ello, la rapidez v es constante.

Caso más sencillo y muy importante: muchos satélites artificiales tienen órbitas casi circulares, y las órbitas de los planetas alrededor del Sol también son aproximadamente circulares.

La única fuerza que actúa sobre un satélite en órbita circular alrededor de la Tierra es la atracción gravitacional terrestre, dirigida hacia el centro de la Tierra y, por lo tanto, hacia el centro de la órbita.

Esto implica que el satélite está en **movimiento circular uniforme** y su rapidez es constante.

El satélite no cae *hacia la Tierra*; más bien, **cae constantemente alrededor de la Tierra**.

En una órbita circular, la rapidez es exactamente la necesaria para mantener constante la distancia entre el satélite y el centro de la Tierra.

Satélites: órbitas circulares

El radio de la órbita es r , medido desde el centro de la Tierra; la aceleración del satélite tiene magnitud $a_{rad} = v^2/r$ y siempre está dirigida hacia el centro del círculo.

Por la ley de la gravitación, la fuerza neta (la gravitacional) que actúa sobre el satélite de masa m tiene magnitud F_g y tiene la misma dirección de la aceleración.

Por la segunda ley de Newton:

$$v = \sqrt{\frac{Gm}{r}}$$

$$m \frac{v^2}{r} = G \frac{m_E m}{r^2} \quad v = \sqrt{\frac{G m_E}{r}}$$

Rapidez v de un objeto en una órbita circular de radio r alrededor de un cuerpo de masa m :

El movimiento del satélite no depende de su masa.

Si pudiéramos partir un satélite a la mitad sin alterar su rapidez, cada mitad seguiría con el movimiento original.

Un astronauta a bordo de un transbordador espacial también es como un satélite de la Tierra, retenido por la atracción gravitacional en la misma órbita que la nave. El astronauta tiene la misma velocidad y aceleración que la nave, así que nada lo empuja contra el piso o las paredes de la nave.

Se encuentra en un **estado de ingravidez aparente**, como en un elevador en caída libre.

Ingravidez verdadera: solo si el astronauta estuviera infinitamente lejos de cualquier otra masa, de modo que la fuerza gravitacional sobre él fuera cero.

Satélites: órbitas circulares

Relación entre el radio r de una órbita circular y el periodo T , la duración de una revolución:

$$T = \frac{2\pi r}{v} = \frac{2\pi r}{\sqrt{\frac{Gm_E}{r}}} = \frac{2\pi r^{\frac{3}{2}}}{\sqrt{Gm_E}}$$

$$T = \frac{2\pi r^{\frac{3}{2}}}{\sqrt{Gm_E}}$$

$$v = \frac{2\pi r}{T}$$

$$GmT^2 = 4\pi^2 r^3$$

Las órbitas más grandes corresponden a rapidezces más bajas y a periodos más largos.

Ejemplo, Estación Espacial Internacional orbita la Tierra a 6.800 km del centro de nuestro planeta (400 km arriba de la superficie de la Tierra) con una rapidez orbital de 7,7 km/s y un periodo orbital de 93 minutos.

La Luna gira alrededor de la Tierra en una órbita mucho más grande de radio igual a 384.000 km, y por lo tanto tiene una rapidez orbital menor (1,0 km/s) y un periodo orbital mucho más prolongado (27,3 días).

Ejemplo: Ejercicio 4.6

¿A qué altura sobre la superficie de la Tierra hay que poner en órbita un satélite (suponiendo la órbita circular y sobre el ecuador) para verlo siempre en el mismo lugar del cielo desde nuestra casa?

Este tipo de satélites se denomina **geoestacionario**.

$$G = 6,674 \times 10^{-11} \text{ N.m}^2/\text{kg}^2 \quad m = 5,972 \times 10^{24} \text{ kg} \quad T = 24 \times 3600 = 86.400 \text{ s} = 8,640 \times 10^4 \text{ s}$$

$$T = \frac{2\pi r^{\frac{3}{2}}}{\sqrt{Gm_E}}$$

$$GmT^2 = 4\pi^2 r^3$$

$$r = \left(\frac{6,674 \times 10^{-11} (5,972 \times 10^{24}) (8,640 \times 10^4)^2}{4\pi^2} \right)^{\frac{1}{3}} = 4,2240 \times 10^7 \text{ m} = 42.240 \text{ km}$$

Como el radio medio de la Tierra vale 6.341 km: $h = 42.240 - 6.341 = 35.861 \text{ km}$

$$\mathbf{h = 3,59 \times 10^7 \text{ m}}$$

Una órbita geoestacionaria es una órbita circular en el plano ecuatorial terrestre, y un movimiento de Oeste a Este (en el mismo sentido que la rotación de la Tierra).

Desde Tierra, un objeto geoestacionario parece inmóvil en el cielo y, por tanto, es la órbita de mayor interés para los operadores de satélites artificiales de comunicación y de televisión.

En realidad se debería considerar como periodo el día sidéreo (23 h 56 min 4 s).

Las leyes de Kepler y el movimiento de los planetas

Planeta: del griego “vagabundo”: los planetas cambian continuamente su posición en el cielo en relación con el fondo estrellado.

Uno de los grandes logros intelectuales de los siglos XVI y XVII fue darse cuenta de que la Tierra es un planeta, que todos los planetas están en órbita alrededor del Sol y que los movimientos aparentes de los planetas vistos desde la Tierra pueden servir para determinar con precisión sus órbitas.

Primeros descubrimientos publicados: **Nicolás Copérnico** (Polonia, **1543**). Deducción de naturaleza de órbitas planetarias **Johannes Kepler** (**1601 y 1619**) usando un conjunto de datos precisos acerca de los movimientos planetarios aparentes compilado por su maestro, el danés **Tycho Brahe**. Por medio de ensayo y error, Kepler descubrió tres leyes empíricas que describían con exactitud los movimientos de los planetas:



Las leyes de Kepler y el movimiento de los planetas

1. Cada planeta se mueve en una órbita elíptica, con el Sol en uno de los focos de la elipse.
2. Una línea del Sol a un planeta dado barre áreas iguales en tiempos iguales.
3. Los periodos de los planetas son proporcionales a las longitudes del eje mayor de sus órbitas elevadas a la potencia 3/2.

$$T = \frac{2\pi r^{\frac{3}{2}}}{\sqrt{GM}} = \frac{2\pi}{\sqrt{GM}} r^{\frac{3}{2}}$$

Kepler no sabía *por qué los planetas se movían así*.

Tres generaciones después, cuando Newton dirigió su atención al movimiento planetario, descubrió que las leyes de Kepler pueden deducirse; son consecuencia de las leyes de Newton del movimiento y de la ley de la gravitación.

Ejemplo: Ejercicio 4.11

Podemos calcular la masa de un planeta poniendo un satélite a girar alrededor del mismo y midiendo el tiempo que demora en completar una vuelta. Si a estos efectos colocamos un satélite con un radio orbital de $4,0 \times 10^7$ km y contamos 122 días para que regrese a su posición inicial. ¿Cuánto vale la masa de este planeta?

$$r = 4,0 \times 10^7 \text{ km} = 4,0 \times 10^{10} \text{ m}$$

$$T = 122 \text{ días} = 122 \times 24 \times 3600 = 1,05408 \times 10^7 \text{ s}$$

$$GmT^2 = 4\pi^2 r^3$$


$$m = \frac{4\pi^2 r^3}{GT^2} = \frac{4\pi^2 (4,0 \times 10^{10})^3}{(6,674 \times 10^{-11})(1,05408)^2} = 3,41 \times 10^{29} \text{ kg}$$

$$m = 3,4 \times 10^{29} \text{ kg}$$



Ejemplo: Ejercicio 4.12

Un yo-yo de gran tamaño se hace con dos discos sólidos idénticos cada uno de masa $M = 2,00 \text{ kg}$ y radio $R = 10,0 \text{ cm}$. Los dos discos son ensamblados por un cilindro sólido de radio $r = 4,00 \text{ cm}$ y cuya masa vale $m = 1,00 \text{ kg}$ como se muestra en la figura. Tome el centro del cilindro como el eje del sistema, con los torques positivos dirigidos a la izquierda a lo largo de este eje. Todos los torques y variables angulares son calculados en relación con este eje. Una cuerda ligera se enrolla alrededor del cilindro y después se deja caer el sistema a partir del reposo.



- ¿Cuál es el momento de inercia del sistema? Dé una respuesta simbólica.
- ¿Qué torque ejerce la gravedad sobre el sistema con respecto al eje dado?
- Tome como negativa la coordenada en la dirección de la caída. Según lo representado en la figura, ¿el torque ejercido por la tensión es positivo o negativo? ¿La aceleración angular es positiva o negativa? ¿Qué hay de la aceleración de translación?
- Escriba una ecuación para la aceleración angular α en términos de la aceleración de translación a y radio r .
- Escriba la segunda ley del Newton para el sistema en términos de m , M , a , T y g .
- Escriba la segunda ley del Newton para la rotación en términos de I , α , T y r .
- Elimine α de la segunda ley rotatoria con la expresión encontrada en la parte d) y encuentre una expresión simbólica para la aceleración a en términos de m , M , g , r y R .
- ¿Cuál es el valor numérico para la aceleración del sistema?
- ¿Cuál es la tensión en la cuerda?
- ¿Cuánto tiempo toma al sistema caer $1,00 \text{ m}$ a partir del reposo?

Ejemplo: Ejercicio 4.12

a) ¿Cuál es el momento de inercia del sistema? Dé una respuesta simbólica.

$$I = 2I_{\text{disk}} + I_{\text{cylinder}} = 2\left(MR^2/2\right) + mr^2/2 \quad \text{or} \quad \boxed{I = MR^2 + mr^2/2}$$

b) ¿Qué torque ejerce la gravedad sobre el sistema con respecto al eje dado?

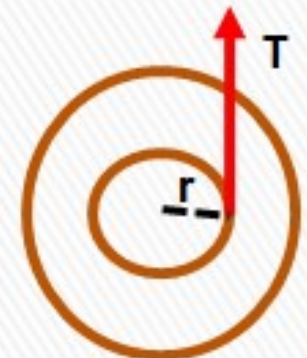
Como el peso está aplicado en el centro de gravedad, y éste se encuentra en el eje de rotación, su brazo de palanca es nulo, por tanto: $\tau_{\text{peso}} = 0$

c) Tome como negativa la coordenada en la dirección de la caída. Según lo representado en la figura, ¿el torque ejercido por la tensión es positivo o negativo? ¿La aceleración angular es positiva o negativa? ¿Qué hay de la aceleración de translación?

Como la tensión tiende a hacer girar al yo-yo en sentido antihorario entonces el torque que realiza la tensión respecto al eje de giro es positivo.

Como $\tau = I \cdot \alpha$ e $I > 0$, entonces α es positiva.

Como el yo-yo desciende, entonces a es negativa.



Ejemplo: Ejercicio 4.12

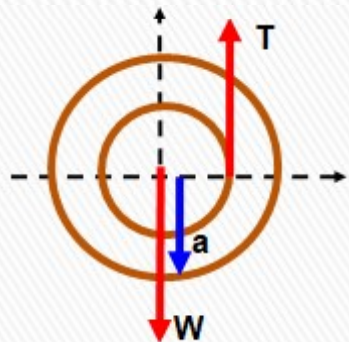
d) Escriba una ecuación para la aceleración angular α en términos de la aceleración de translación a y radio r .

La aceleración de traslación del yo yo corresponde a la aceleración tangencial del cilindro central y a su vez, la aceleración tangencial es igual a la aceleración angular por el radio.

Pero por la convención de signos usados en la que $a < 0$ y $\alpha > 0$ se tiene que:

$$\alpha = -a/r$$

e) Escriba la segunda ley del Newton para el sistema en términos de m , M , a , T y g



$$\sum F_y = m_{total}a \quad \mathbf{T - W = -(2M + m)a}$$

$$\mathbf{(2M + m)g - T - (2M + m)a}$$

f) Escriba la segunda ley del Newton para la rotación en términos de I , α , T y r

$$I_O \alpha = \sum \tau_O \quad \left(MR^2 + \frac{mr^2}{2} \right) \alpha = T \cdot r$$

Ejemplo: Ejercicio 4.12

g) Elimine α de la segunda ley rotatoria con la expresión encontrada en la parte d) y encuentre una expresión simbólica para la aceleración a en términos de m , M , g , r y R .

$$\alpha = a/r \quad (2M + m)g - T = (2M + m)a \quad \left(MR^2 + \frac{mr^2}{2} \right) \alpha = T \cdot r$$

$$\left(MR^2 + \frac{mr^2}{2} \right) \frac{a}{r} = T \cdot r \quad T = \left(MR^2 + \frac{mr^2}{2} \right) \frac{a}{r^2}$$

$$(2M + m)g - \left(MR^2 + \frac{mr^2}{2} \right) \frac{a}{r^2} = (2M + m)a$$

$$(2M + m)g = (2M + m)a + \left(MR^2 + \frac{mr^2}{2} \right) \frac{a}{r^2}$$

$$(2M + m)g = \left(2M + \frac{3m}{2} + M \frac{R^2}{r^2} \right) a$$

$$a = \frac{2M + m}{2M + \frac{3m}{2} + M \frac{R^2}{r^2}} g$$

h) ¿Cuál es el valor numérico para la aceleración del sistema?

$$a = \frac{2M + m}{2M + \frac{3m}{2} + M \frac{R^2}{r^2}} g = \frac{2(2,00) + 1,00}{2(2,00) + \frac{3(1,00)}{2} + (2,00) \frac{10,0^2}{4,00^2}} 9,80 = 2,72 \text{ m/s}^2$$

Ejemplo: Ejercicio 4.12

i) ¿Cuál es la tensión en la cuerda?

$$(2M + m)g - T = (2M + m)a$$

$$T = (2M + m)(g - a)$$

$$T = (2M + m)(g - a) = (2 \times 2,00 + 1,00) \times (9,80 - 2,72) = 35,4 \text{ N}$$

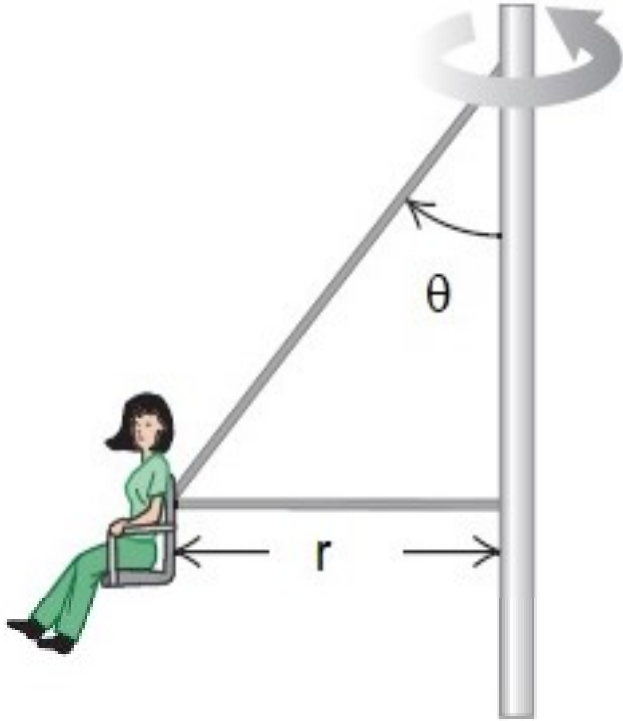
j) ¿Cuánto tiempo toma al sistema caer 1,00 m a partir del reposo?

$$h = \frac{1}{2} at^2$$

$$t = \sqrt{\frac{2h}{a}} = \sqrt{\frac{2(1,00)}{2,72}} = 0,857 \text{ s}$$



4.14.- Examen agosto 2021



a) En un parque de diversiones, uno de los juegos es el denominado “columpio gigante”, en el que un eje vertical central gira, moviendo una serie de brazos que tienen asientos sostenidos por cables. Cada asiento está conectado a dos cables, uno de los cuales es horizontal, y otro forma un ángulo θ con el eje vertical, como se muestra en la figura. El asiento gira en un círculo horizontal de radio $r = 7,50 \text{ m}$ a una rapidez de $v = 22,0 \text{ m/s}$. Si el ángulo $\theta = 40,0^\circ$ y el peso del asiento más el de la persona sentado en él vale $W = 1,08 \times 10^3 \text{ N}$, ¿cuánto vale la tensión (expresada en newtons) del cable horizontal? Considere a $g = 9,80 \text{ m/s}^2$ como valor exacto.



4.14.- Examen agosto

Datos: $r = 7,50 \text{ m}$; $\theta = 40,0^\circ$; $v = 22,0 \text{ m/s}$; $W = 1,08 \times 10^3 \text{ N}$

Hacemos el D.C.L:

Planteo la 2da. Ley de Newton para c/u de los ejes

$$y) 0 = T \cdot \cos \theta - W = 0$$

$$x) m \cdot a_c = F + T \cdot \sin \theta$$

$$T = \frac{W}{\cos \theta} = \frac{1,08 \times 10^3}{\cos 40,0^\circ} = 1409,84 \text{ N}$$

$$F = m \cdot a_c - T \sin \theta = \frac{W v^2}{g r} - T \sin \theta$$

$$F = \frac{1,08 \times 10^3}{9,80} \frac{22,0^2}{7,50} - 1409,84 \sin 40,0^\circ = 6,21 \times 10^3 \text{ N}$$

$$F = 6,21 \times 10^3 \text{ N}$$

